

Заполняется ПЕЧАТНЫМИ БУКВАМИ чернилами черного или синего цвета по образцам:

А	Б	В	Г	Д	Е	Ж	З	И	К	Л	М	Н	О	П	Р	С	Т	У	Ф	Х	Ц	Ч	Ш	Щ	Ъ	Ы	Ь	Э	Ю	Я	@	8	9	.
А	В	С	Д	Е	Ф	Г	Н	І	Ј	К	Л	М	Н	О	Р	Q	R	S	T	U	V	W	X	Y	Z	1	2	3	4	5	6	7	0	.

ПРЕДМЕТ ИСТОРИЯ

КЛАСС 8А

ДАТА 17.11.2022

ШИФР УЧАСТНИКА

08-08

ФАМИЛИЯ Шандаров

ИМЯ Артём

ОТЧЕСТВО Евгеньевич

Документ удостоверяющий личность

свидетельство о рождении

паспорт

Гражданство

Российская Федерация

серия 0722

номер 930307

Иное

Дата рождения 15.07.2008

Домашний телефон участника

+ 7

Мобильный телефон участника

+ 7

Электронный адрес участника

**МУНИЦИПАЛЬНЫЙ ЭТАП ВСЕРОССИЙСКОЙ ОЛИМПИАДЫ ШКОЛЬНИКОВ
2022/23 УЧЕБНОГО ГОДА
ИСТОРИЯ**

Предмет	Класс	Шифр	Количество баллов за задание									
			1 Задание	2 Задание	3 Задание	4 Задание	5 Задание	6 Задание	7 Задание	8 Задание	9 Задание	10 Задание
История	8	08-08	1	0	1	0	10	2	0	2	11	25

Председатель *Алексеева Н.А.*
 Члены комиссии *Жуковская Т.С.* *Сысоев А.С.*
Сидорова Е.И. *Туркина Е.И.* *Сивачев С.Н.*

Ставропольский край

Муниципальный этап всероссийской олимпиады школьников

2022/23 учебного года

История

7-8 класс

(максимальный балл за весь тур - 100)
(время выполнения - 180 минут)

Задание 1. Задание с выбором одного ответа из предложенных.

За каждое задание по 1 баллу. Максимальное количество баллов за все задания - 4 балла.

1.1. Прочтите отрывок из сочинения историка и назовите князя, о котором идет речь.

«Еще при жизни матери, оставив на попечение Ольги Киевское княжество, князь совершил первые свои блестящие походы. Он пошел на Оку и подчинил вятичей, которые тогда платили дань хазарам, затем обратились на хазар и разгромили Хазарское царство, взял главные города хазар... Наконец, князь проник на Волгу, разорил землю камских болгар и взял их город Болгар. Словом, он победил и разорил всех восточных соседей Руси, вошедших в систему Хазарской державы. Главной силой в Причерноморье становятся теперь Русь».

- ✓ 1. Игорь
- 2. Олег
- 3. Святослав
- 4. Владимир Мономах

1.2. Прочтите отрывок из сочинения историка В.О. Ключевского и назовите правителя, о котором идет речь.

«Свержение ига устранило политическое к тому препятствие, а брак с Софьей давал на то историческое оправдание: мог теперь считать себя единственным оставшимся в мире православленным и независимым государем, какими были византийские императоры, и верховным властителем Руси. С конца XV в. на его печатках появляется византийский герб - двуглавый орел».

- 1. Иван III
- 2. Иван IV
- 3. Борис Годунов
- ✓ 4. Иван Калита

1.3. Прочтите отрывок из книги современного историка и укажите, когда произошли описанные события.

«События развивались крайне неблагоприятно для Руси... орды, кочевавшие на огромном пространстве от Волги до Днестра, от верховьев Дона до Северного Кавказа и Крыма, пришли в движение. Вся незначительная рать Мамай собралась близ русской границы. Кочевники ждали прибытия союзников - Ягайлы и Олега Рязанского, чтобы всей массой обрушиться на Русь».

- ✓ 1. Перед битвой на реке Калке.
- 2. После «стояния» на реке Угре.
- 3. После Полтавской битвы.
- 4. Перед Куликовской битвой.

1.4. Крупнейший Золотоордынский город на Северном Кавказе, центр ремесла и торговли, расположенный на берегу реки Кумы (ныне территория г. Буденновск).

- ✓ 1. Малжар.
- 2. Семендер.
- 3. Пугутаракань.
- 4. Доростол.

Задание 2. По какому принципу образованы ряды?
За каждое задание 1 балл. Максимальное количество баллов за все задания - 2 балла.

- 2.1. Григорий Орепшев, патриарх Гермоген, Иван Бологнинков, Прокопий Ляпунов, Шемсметшин
- 2.2. Пересвет, Владимир Серпуховский, Дмитрий Воброк, Дмитрий Иванович, *Бачмангур*

Задание 3. Задание с выбором нескольких ответов из предложенных.

Выберите три ответа.
За полностью правильный ответ 1 балл, при одной ошибке и более - 0 баллов.
Максимальный балл за все задания - 3.

3.1. Выберите из списка три события, относящихся к правлению Ивана IV?

- ✓ 1. Присоединение Астрахани.
- 2. Присоединение Новгорода.
- ✓ 3. Появление книгопечатания в Москве.
- 4. Введение «заповедных лет».
- 5. Постройка краснокирпичного Московского Кремля.
- ✓ 6. Учреждение патриаршества в России.

3.2. Какие соответствия города и архитектурного памятника верны?

- 1. Владимир - Архангельский собор.
- ✓ 2. Москва - Дмитриевский собор.
- ✓ 3. Владимир - Успенский собор.
- ✓ 4. Новгород - Софийский собор.
- 5. Москва - Покрова на Нерли.
- 6. Киев - Золотые ворота.

3.3. Какой признак из перечисленного характеризует Владимиро-Суздальское княжество в XII–XIII вв.?

1. Верховной властью обладало вече.
2. Слабые вечевые традиции.
3. Верховная собственность великого князя на землю.
4. Признание князя на престоле по договору.
5. Непрочные позиции боярской знати.
6. Посадник – центральная фигура управления.

Задание 4. Задание на установление последовательности.

Запишите ответ в виде последовательности номеров событий в задании.

За каждую верную последовательность по 2 балла. Максимальный балл за все задания – 10 баллов.

4.1. Восстановите правильную хронологическую последовательность событий.

- 5.1. Получение Иваном Калитой ярлыка на великое княжение.
- 4.2. Поход Тохтамыша на Москву.
- 2.3. Леновое побоище.
- 3.4. Битва на реке Калке.
- 4.5. Куликовская битва.

4.2. Расположите следующие территории в хронологической последовательности их присоединения к России.

- 5.1. Восточная Сибирь.
- 4.2. Псков.
- 2.3. Рязань.
- 4.4. Западная Сибирь.
- 3.5. Астраханское ханство.

4.3. Расположите названия памятников русской культуры в хронологической последовательности их появления.

- 4.1. Успенский собор во Владимире-на-Клязьме.
- 5.2. Собор Василия Блаженного в Москве.
- 3.3. Церковь Покрова в Филях в Москве.
- 4.4. «Задонщина».
- 4.5. Софийский собор в Новгороде.

4.4. Расположите перечисленные исторические личности в хронологическом порядке их жизни и деятельности.

- 5.1. Елена Глинская.
- 4.2. Дмитрий Шемяка.
- 4.3. Ярослав Мудрый.
- 3.4. Андрей Боголюбский.
- 2.5. Юрий Долгорукий.

4.5. Расположите в хронологической последовательности исторические события.

- 4.1. Осада Пскова Стефаном Баторием.
- 5.2. Грюнвальдская битва.
- 3.3. Битва на реке Шелонь.
- 4.4. Разгром печенегов Ярославом Мудрым.
- 4.5. Разгром Хазарского каганата.

Задание 5. Задание на соответствие.

Во втором перечне есть лишняя характеристика.

За полностью верный ряд – 4 балла, 3 балла при одной ошибке, 2 балла при двух ошибках, 1 балл при трех ошибках, 0 баллов при четырех и более ошибках. Максимальный балл за все задания – 16 баллов.

5.1. Установите соответствие между именами князей Древней Руси и закрепившимися за ними прозвищами в истории.

Имя	Назван в истории
4.1. Владимир	А. Окалыный
4.2. Святополк	Б. Мудрый
3. Ярослав	В. Красное Солнышко
4. Олег	Г. Старый
5. Игорь	Д. Великий
	Е. Тупайный

5.2. Установите соответствие между терминами и их определениями.

Термин	Содержание термина
3.1. Варшчина	А. Народное сказание о подвигах героев
2. Посад	Б. Совет знати в Великом княжестве Литовском
5.3. Рада	В. Феодальная повинность, заключающаяся в обязанности зависимого крестьянина работать в хозяйстве и на поле феодала
4.4. Былина	Г. Торгово-ремесленная часть города
5.5. Вотчина	Д. Земельное владение, передававшееся по наследству
	Е. Соседская община у восточных славян

5.3. Установите соответствие между памятниками культуры и их краткими характеристиками.

Памятник культуры	Характеристика памятника культуры
1. «Задонщина»	А. Автор – Андрей Рублев.
2. «История о великом князе московском»	Б. Автор – Андрей Курбский
3. Икона «Троица»	В. Автор – Ф. С. Конь
4. «Смоленский кремль»	Г. Данный памятник культуры посвящен событиям, произошедшим в XIV в.
5. Фрески Ферапонтова монастыря	Д. Автор – Дионисий
	Е. Данный памятник культуры создан в XVII в.

5.4. Установите соответствие между личностями и событиями.

Личности	События
1. Мстислав Удалой	А. Битва на реке Сить
2. Юрий Всеволодович	Б. Битва на реке Капа
3. Бялагий Колояр	В. Разгром Батыем Рязанского княжества
4. Александр Ярославич	Г. Осада Киева Батыем
5. Воевода Дмитр	Д. Битва на реке Неве
	Е. Освобождение от поляков в 1612 г.

Задание 6. Задание на работу с источником. Какими князьям посвящены строки из «Слова о полку Игореве»? Своё мнение обоснуйте, заполните таблицу.

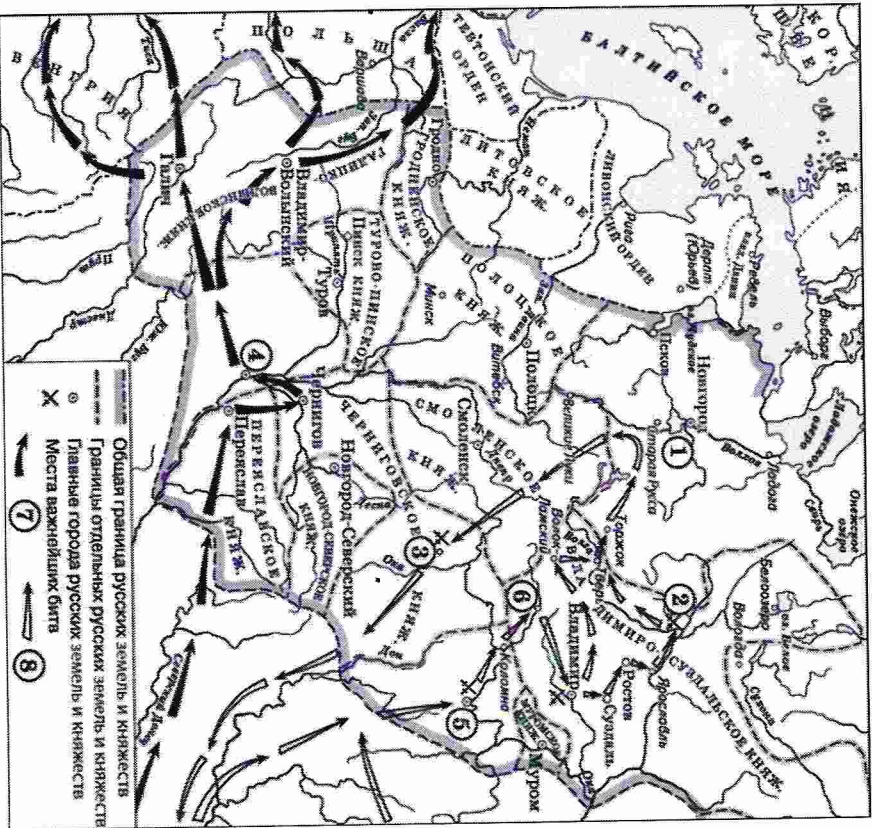
За правдиво указанное князя по 1 баллу и по 1 баллу за верное обоснование. Максимальный балл — 8.

- «Высоко ты сидишь на своем златокованом престоле, подперв железными полками горы Венгерские, заступив королю путь, затворив Дунаю ворота...» *Иван Батый.*
- «Великий князь...! Не думаешь ли ты пригнать издалека, отчий золотой престол победы? Ты ведь можешь Волгу веслами расплескать, а Дон шлемами вычерпать. Если бы ты был здесь, то была бы раба по ногаге, а раб по резане» *Свечковская Диакониха.*
- «Стрелье князю ум охватила, и желание отвечать Дон Великий застопило ему преданномованье. «Хочу, сказал, копье предложить на границе поле Половецкого, с вами, ручья, хочу либо гололу сложить, либо шлемом испить из Дона» *Морис IV.*

4. «Минули годы Ярославовы, были и войны...Тот ведь [князь] Тмечом крамолу ковыд и стрелы по земле селл... Тогда, при ... Гориславиче заседалось и прорасстало уособианн, погиблого достояние Дажкобжегьего внука, в княжеских крамолах сокращались жизни людские. Тогда по Русской земле редко пахари покрывали, но часто вороны грабли, друпа между собой деля, а галки по-овоему говорилин» *Давид Радичев.*

Задание 7. Рассмотрите карту и ответьте на вопросы.

За верные ответы пунктом 1,2,3,4,5, по 2 балла, затем по 1 баллу за каждое верное суждение. Максимальный балл — 13.



- Укажите век, к которому относятся события, обозначенные на схеме стрелками. Ответ запишите словом. *13 век.*
- Укажите название города, обозначенного на схеме цифрой «3». *Новгород.*
- Назовите главнокомандующего, руководившего походом по направлению, обозначенному в легенде схемой цифрой «7». *Морис Стурган.*

4. Назовите время года, когда состоялось сражение, место которого обозначено на схеме цифрой «2».

5. Какие суждения, относящиеся к данной схеме, являются верными? Укажите название города, обозначенного на схеме цифрой «6».

Осень. Смоленск.

Выберите три суждения из шести предложенных.

1) Цифрой «4» на схеме обозначен город, обороной которого (в ходе событий, обозначенных на схеме стрелками) руководил воевода Дмитр.

2) Цифрой «5» на схеме обозначена Рязань.

3) Стрелками, обозначающими в легенде схемы цифрой «8», показаны действия монгольских войск.


4) Цифрой «2» на схеме обозначена река Калка.

5) Борин Елпатий Коловрат, прославившийся своей храбростью, был родом из города, обозначенного на схеме цифрой «1».

6) Цифрой «5» на схеме обозначено место, где погиб великий князь Владимирский Юрий Всеволодович.

Задание 8. Какие из представленных памятников культуры были созданы в XVI веке?


За каждый правильно указанный храм по 2 балла. Максимальный балл - 8
Ответ запишите цифрами.



1.




2.



3.



4.



5.



6.

Задание 9. Задание на анализ документов.

За первые 5 верных ответов по 1 баллу. По 2 балла за каждый верно указанный пункт пункта 6, всего — 6 баллов. Максимальный балл — 11.

Текст из исторического документа:

«В конце 1611 г. Московское государство, потеряв свой центр, стало распадаться на отдельные части... чуть не каждый город действовал особняком, только пересылался с другими городами. Государство преобразилось в какую-то бесформенную, мигучую федерацию. Но с конца 1611 г., когда изменили политические силы, начинают пробуждаться силы религиозные и национальные, начинают пробуждаться силы религиозные и национальные, начинаются трагедии архимандрита Дионисия и келаря Авраамия, расхаживавшие из Троицкого монастыря, понимали нижегородцев под руководством их старосты мясника Кузьмы Минина. На призыв нижегородцев стали стекаться оставшиеся без дела и жалованья, а часто и без поместий служивые люди, городовые дворные и дети боярские, которых Минин нашел и вожди Дмитрия Михайловича Пожарского».

1. Какое название получили диссиденты в приведенном фрагменте период в истории России (1 балл). *Общественные движения от ксенофобии.*
2. Назовите последнего представителя династии Рюриковичей (1 балл). *Игорь I.*
3. В каком году пресеклась династия Рюриковичей (1 балл). *1605г.*
4. Кто возглавил первое народное ополчение (1 балл). *Кураш и Мишин и Дмитрий Топтыгин.*
5. Назовите первого представителя династии Романовых (1 балл). *Алексей Михайлович.*
6. Укажите любые три причины периода, описываемого в документе (2 балла за каждую причину, всего до 6 баллов).

Задание 10. Эссе или развернутый письменный ответ. Развернутый ответ пишется по одной из выбранных тем.
Максимальный балл – 25.

Выберите тему Вашего сочинения-эссе.

Ваша задача – сформулировать собственное отношение к данному утверждению и обосновать его аргументами, представляющимися Вам наиболее существенными.

При выборе темы исходите из того, что Вы:

- 1) ясно понимаете смысл выбранной темы;
- 2) можете выразить своё отношение к выбранной теме;
- 3) располагаете конкретными знаниями (факты, статистические данные, примеры) по данной теме;
- 4) владеете терминами, необходимыми для грамотного изложения своей точки зрения.

При написании работы постарайтесь исходить из того, что жюри, оценивая Ваше эссе, будет руководствоваться следующими критериями:

1. Обоснованность выбора темы (объяснение выбора темы и задач, которые ставит перед собой в своей работе участник).
2. Творческий характер восприятия темы, ее осмысление.
3. Грамотность использования исторических фактов и терминов.
4. Чёткость и логичность основных положений работы.
5. Знание различных точек зрения по избранному вопросу.

Темы эссе:

1. Система управления Древнерусским государством.
2. Принятие христианства и начало становления Российской православной цивилизации.
3. Феодальная раздробленность на Руси: причины и последствия.
4. Формирование единого Российского государства в XV – первой трети XVI в.
5. Внешняя политика России во второй половине XVI века.
6. Реформа русской православной церкви. Раскол.
7. Азово-Моздокская линия и основание г. Ставрополя.

Ставропольский край
Муниципальный этап Всероссийской олимпиады школьников
2022/23 учебного года

История
7-8 класс

(Максимальный балл за весь тур - 100)
(время выполнения - 180 минут)

Задание 1. Задание с выбором одного ответа из предложенных.
За каждое задание по 1 баллу. Максимальное количество баллов за все задания - 4 балла.

Ответ:

1.1	1.2	1.3	1.4
А	В	А	А
0	0	0	1

Задание 2. По какому принципу образованы ряды?
За каждое задание 1 балл. Максимальное количество баллов за все задания - 2 балла.

Ответ:

- 2.1. Меморизации.
2.2. Благодарности.

Задание 3. Задания с выбором нескольких ответов из предложенных.

Выберите три ответа.
За полностью правильный ответ 1 балл, при одной ошибке и более - 0 баллов.
Максимальный балл за все задания - 3.

Ответ:

3.1.	3.2.	3.3.
А В С	Д З Ч	И
1	0	0

Задание 4. Задание на установление последовательности.
Запишите ответ в виде последовательности номеров событий в задании.
За каждую верную последовательность по 2 балла. Максимальный балл за все задания - 10 баллов.

Ответ:

4.1	4.2	4.3	4.4	4.5
Б А Д З Ч	Б А Д Ч З	Д Б З Ч А	Б Ч А Д З А	Ч Б А Д З А
0	0	0	0	0

Задание 5. Задание на соответствие.
Во втором перечне есть лишняя характеристика.
За полностью верный ряд - 4 балла, 3 балла при одной ошибке, 2 балла при двух ошибках, 1 балл при трех ошибках, 0 баллов при четырех и более ошибках.
Максимальный балл за все задания - 10 баллов.

Ответ:

5.1. Установите соответствие между именами князей Древней Руси и закрепившимися за ними прозвищами в истории.

1	2	3	4	5
В	А	Б	Г М	С

5.2. Установите соответствие между терминами и их определениями.

1	2	3	4	5
В	С	Б	А	Г М

5.3. Установите соответствие между памятниками культуры и их краткими характеристиками.

1	2	3	4	5
С	Г М	А	Е	Б

5.4. Установите соответствие между личностями и событиями.

1	2	3	4	5
С	Б	В	Г М	А

Задание 6. Задание на работу с источником. Каким князьям посвящены строки из «Слова о полку Игореве»? Своё мнение обоснуйте, заполните таблицу.
 За правильно указанного князя по 1 баллу и по 1 баллу за верное обоснование.
 Максимальный балл — 8.

Ответ:

№ отрывка	Князь	Обоснование ответа
1.	Миря - Емфрой.	Дитяе Миря омаио Родоу Миря омаио.
2.	Своио - раице омаиоми.	Многочислене поедуиоу кичеуоу за поедуиоу омаио.
3.	Мвоио IV.	Мвоиоце дедоуиомио Речеице дедоио Мвоио IV.
4.	Овои Редоуио, Мирмоо.	Сочи и ршеиомио Орусиодеа.

Задание 7. Рассмотрите карту и ответьте на вопросы.
 За верные ответы пунктово 1,2,3,4,5, по 2 балла, затем по 1 баллу за каждое верное суждение. Максимальный балл — 13.

Ответ:

1. Редоуиомио.
2. Миряце.
3. Миря Смуроуио.
4. Овоице.
5. 2, 3, 5. Орусиодеа.

Задание 8. Какие из представленных памятников культуры были созданы в XVI веке?
 За каждый правильно указанный храм по 2 балла. Максимальный балл — 8.
 Ответ запишите цифрами.

195

Задание 9. Задание на анализ документов.

За верные 5 верных ответов по 1 баллу. По 2 балла за каждую верно указанную причину пункта 6, всего — 6 баллов. Максимальный балл — 11.

Ответ:

1. Одвобожроче омаиодеа ем раицеио.
2. Дедоуио I.
3. 1603 г.
4. Миряоша Мирини и Ршииоуио Стожорчио.
5. Фидеиодеа сшечеиоидеио.
6. Мвоиодеа омаиодеа омаиодеа омаиодеа.
7. Орусиодеа омаиодеа омаиодеа.
8. Мвоиодеа омаиодеа омаиодеа.

195

Задание 10. Эссе или развернутый письменный ответ. Развернутый ответ пишется по одной из выбранных тем.
 Максимальный балл — 25.

Выберите тему Вашего сочинения-эссе. Ваша задача — сформулировать собственное отношение к данному утверждению и обосновать его аргументами, представляющими Вам наиболее существенными. При выборе темы исходите из того, что Вы:

- 1) ясно понимаете смысл выбранной темы;
 - 2) можете выразить своё отношение к выбранной теме;
 - 3) располагаете конкретными знаниями (факты, статистические данные, примеры) по данной теме;
 - 4) владеете терминами, необходимыми для грамотного изложения своей точки зрения.
- При написании работы постарайтесь исходить из того, что жюри, оценивая Ваше эссе, будет руководствоваться следующими критериями:
1. Обоснованность выбора темы (объяснение выбора темы и задач, которые ставит перед собой в своей работе участник).
 2. Творческий характер восприятия темы, ее осмысление.
 3. Грамотность использования исторических фактов и терминов.
 4. Чёткость и доказательность основных положений работы.
 5. Знание различных точек зрения по избранному вопросу.

Орусиодеа IV.

Уже давае маскую сям іасува
з'яўляюцца рэжымі іасуваў нацыя-
пандаі.

Ступіць эн на рэжымі іасуваў дыя-
уісты іасуваў іасуваў Савіт-
ува і іасуваў 988-ам нацы,
нацыя іасуваў.

Іасува і іасува іасуваў іасуваў
оду і іасува і іасува іасуваў
нацыя іасува іасуваў іасуваў
іасуваў іасуваў іасуваў іасуваў

Іасува іасуваў іасуваў іасуваў іасуваў
нацыя іасуваў іасуваў іасуваў іасуваў
іасуваў іасуваў іасуваў іасуваў
іасуваў іасуваў іасуваў іасуваў

Іасуваў іасуваў іасуваў іасуваў іасуваў
нацыя іасуваў іасуваў іасуваў іасуваў
іасуваў іасуваў іасуваў іасуваў
іасуваў іасуваў іасуваў іасуваў

Іасуваў іасуваў іасуваў іасуваў іасуваў
нацыя іасуваў іасуваў іасуваў іасуваў
іасуваў іасуваў іасуваў іасуваў
іасуваў іасуваў іасуваў іасуваў

Іасуваў іасуваў іасуваў іасуваў іасуваў
нацыя іасуваў іасуваў іасуваў іасуваў
іасуваў іасуваў іасуваў іасуваў
іасуваў іасуваў іасуваў іасуваў

на іасуваў іасуваў іасуваў іасуваў іасуваў
іасуваў іасуваў іасуваў іасуваў іасуваў
іасуваў іасуваў іасуваў іасуваў іасуваў
іасуваў іасуваў іасуваў іасуваў іасуваў

Blank lined area for additional notes.

